


ΟΝΟΜΑ: _____

Μαθηματικά 2η Ενότητα


16. Επαναληπτικό μάθημα

1. Χρωματίζω σύμφωνα με τις οδηγίες.


Χρωματίζω το πιο ψηλό.



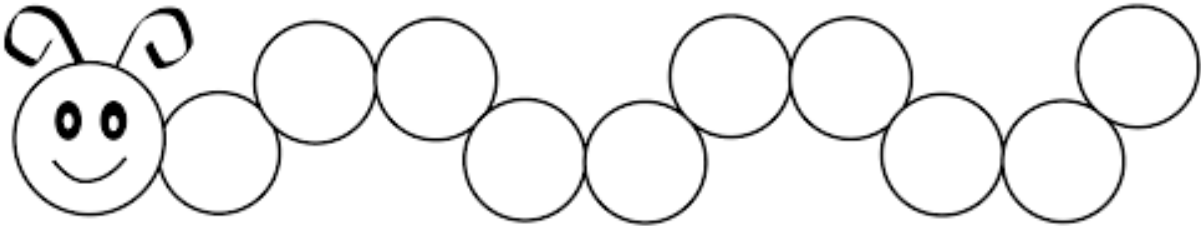
Χρωματίζω τον πιο μακρύ.



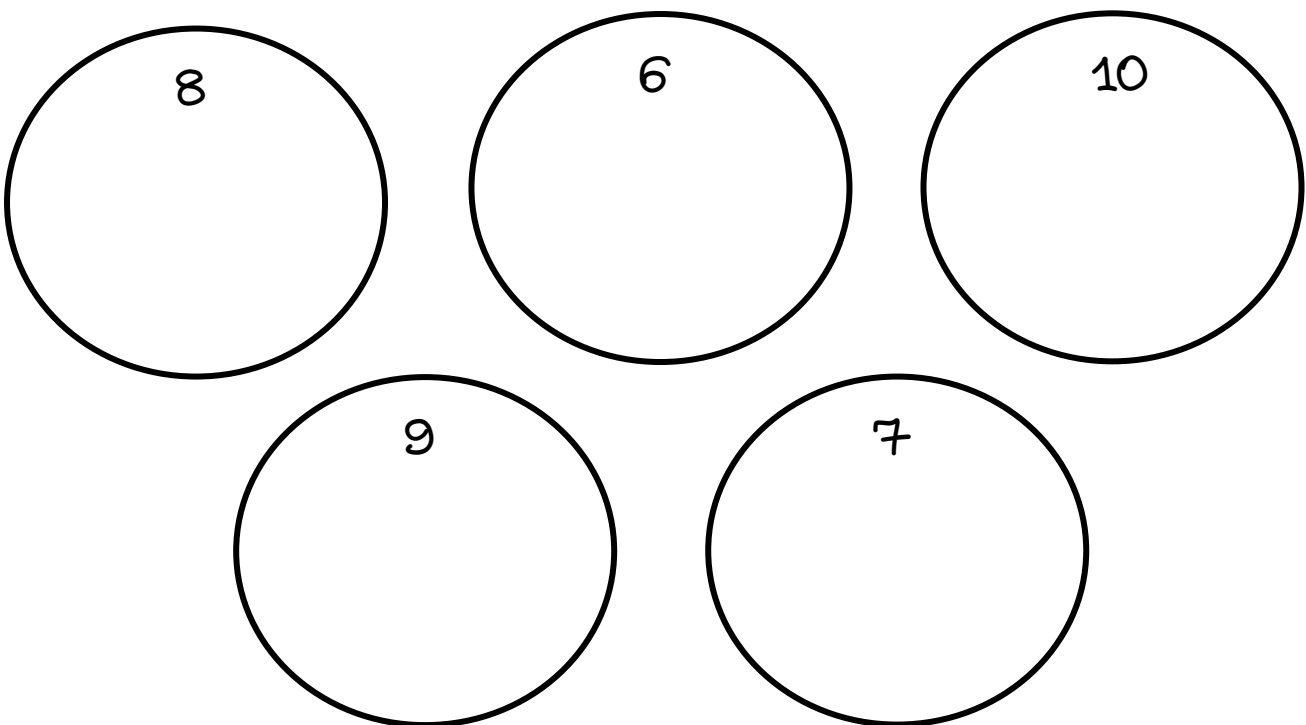
Χρωματίζω το πιο στενό.



2. Γράφω τους αριθμούς από το 1 έως το 10.



3. Σχεδιάζω τόσα λουλούδια όσο μου λέει ο αριθμός στον κάθε κύκλο.



4. Μοιράζω τα γλειφιτζούρια στα παιδιά με πολλούς διαφορετικούς τρόπους.



$$\square + \square$$

$$\square + \square$$

$$\square + \square$$

$$\square + \square$$

$$\square + \square$$

$$\square + \square$$

5. Βάζω το σωστό σύμβολο <, >, =.

$$5 \square 4$$

$$3 \square 2$$

$$5 \square 5$$

$$1 \square 2$$

$$2 \square 5$$

$$4 \square 4$$

$$3 \square 0$$

$$4 \square 3$$

6. Ενώνω τους αριθμούς με τα ονόματά τους.



δύο

ένα


πέντε

τρία

τέσσερα

7. Συμπληρώνω ένα τετράγωνο περισσότερο στο δεξιό κουτάκι και ένα λιγότερο στο αριστερό.

1 λιγότερο



1 περισσότερο

8. Βρίσκω το αποτέλεσμα στις παρακάτω προσθέσεις.

$1 + 1 = \underline{\quad}$

$2 + 3 = \underline{\quad}$

$3 + 2 = \underline{\quad}$

$4 + 1 = \underline{\quad}$

$5 + 0 = \underline{\quad}$



$3 + 1 = \underline{\quad}$

$2 + 2 = \underline{\quad}$

$0 + 1 = \underline{\quad}$

$1 + 2 = \underline{\quad}$

$1 + 4 = \underline{\quad}$

9. Κάνω τις παρακάτω προσθέσεις κάθετα.

$$\begin{array}{r} 4 \\ + 1 \\ \hline \square \end{array}$$

$$\begin{array}{r} 1 \\ + 3 \\ \hline \square \end{array}$$

$$\begin{array}{r} 2 \\ + 2 \\ \hline \square \end{array}$$

$$\begin{array}{r} 3 \\ + 2 \\ \hline \square \end{array}$$

$$\begin{array}{r} 1 \\ + 0 \\ \hline \square \end{array}$$

10. Γράφω τον αριθμό που είναι πριν και μετά.

— 5 —

— 7 —



— 1 —

— 6 —

— 9 —

— 4 —

11. Λύνω το παρακάτω πρόβλημα:

Η Άννα έχει  αυτοκόλλητα. Της έδωσε η αδερφή της Άλφα . Πόσα αυτοκόλλητα έχει τώρα η Άννα;

Λύση: $\square + \square = \square$

Απάντηση: Η Άννα έχει τώρα αυτοκόλλητα.