



Φτιάξε τη σαρανταποδαρούσα μετρώντας από το 0 ως το 10 και αντίστροφα.

Κεφάλαιο 16
Επανάληψη ενότητας



Αντιστοιχίσε τους αριθμούς με το όνομά τους.

1 *

2 *

3 *

4 *

5 *

* τέσσερα

* δύο

* ένα

* πέντε

* τρία





Βρες τα αθροίσματα των παρακάτω προσθέσεων της μάγισσας Προσθετόλ.



$3+2=$	$1+2=$	$0+3=$	$2+1+1=$	$1+4=$
$1+2+2=$	$3+1=$	$0+5=$	$1+1+1=$	
$2+0=$	$1+2+1=$	$1+3+1=$	$2+0+1=$	

Φτιάξε τη σαρανταποδαρούσα μετρώντας από το 0 ως το 10 και αντίστροφα.

Κεφάλαιο 16
Επανάληψη ενότητας



Αντιστοιχίσε τους αριθμούς με το όνομά τους.

1 *

2 *

3 *

4 *

5 *

* τέσσερα

* δύο

* ένα

* πέντε

* τρία



Βρες τα αθροίσματα των παρακάτω προσθέσεων της μάγισσας Προσθετόλ.

$3+2=$ _____ $1+2=$ _____ $0+3=$ _____ $2+1+1=$ _____ $1+4=$ _____

$1+2+2=$ _____ $3+1=$ _____ $0+5=$ _____ $1+1+1=$ _____

$2+0=$ _____ $1+2+1=$ _____ $1+3+1=$ _____ $2+0+1=$ _____

